
**ХІ Республіканская навучна-практычная канферэнцыя-конкурс
навучна-даследавальскіх работ у часіхся сярніх,
сярніх спецыяльных учебных заведений и студэнтаў вузав
«От Альфа к Омеге...» (с міжнародным удзелам)
Секцыя 1. Алгебра, геаметрыя и матэматычны аналіз
НАУЧНО-ИССЛЕДОВАТЕЛЬСКИЕ РАБОТЫ ШКОЛЬНИКОВ**

МИНИСТЕРСТВО ОБРАЗОВАНИЯ РЕСПУБЛИКИ БЕЛАРУСЬ

Государственное учреждение образования «Гимназия имени Я.Купалы»

**ТРЕУГОЛЬНИК НАИМЕНЬШЕГО ПЕРИМЕТРА И НАИМЕНЬШЕЙ
ПЛОЩАДИ, СОДЕРЖАЩЕЙ ДВЕ ОКРУЖНОСТИ**

Трунина Мария Сергеевна,
учащаяся 9 «Б» класса

Глушкевич Наталья Михайловна,
учитель математики
ГУО «Гимназия имени Я.Купалы»,
высшая кв. категория учителя математики

Мозырь, 2021

**XI Республиканская научно-практическая конференция-конкурс
научно-исследовательских работ учащихся средних,
средних специальных учебных заведений и студентов вузов
«От Альфа к Омеге...» (с международным участием)
Секция 1. Алгебра, геометрия и математический анализ
РЕФЕРАТЫ НАУЧНО-ИССЛЕДОВАТЕЛЬСКИХ РАБОТ ШКОЛЬНИКОВ**

**ТРЕУГОЛЬНИК НАИМЕНЬШЕГО ПЕРИМЕТРА И НАИМЕНЬШЕЙ ПЛОЩАДИ,
СОДЕРЖАЩЕЙ ДВЕ ОКРУЖНОСТИ**

М.С.Трунина

*ГУО «Гимназия имени Я.Купалы», 9 «Б» класс,
Мозырь, Беларусь*

Научный руководитель – Н.М.Глушкевич, учитель математики ГУО «Гимназия имени Я.Купалы», высшая кв. категория учителя математики.

Работа 19 с., 6 ч., 9 рис., 5 источников.

Ключевые слова: периметр, площадь, треугольник, окружность.

В работе исследуются две задачи И. Ф. Шарыгина:

Задача №1. Найти наименьшее значение периметров всевозможных треугольников, содержащих две касающиеся внешним образом окружности с радиусом R и r .

Задача №2. Найти наименьший по площади треугольника, содержащий две равные касающиеся окружности R .

Чтобы справиться с решением этих задач пришлось предварительно решить опорные задачи, изучить и исследовать литературу по данной теме.

Предметом исследования являются нахождение наименьшего значения периметра и площади треугольника, который содержит две окружности.

Задачи исследования:

1. Исследовать и изучить литературу по теме «Окружность и треугольник»
2. Отбор и классификация исследуемого материала
3. Провести исследование и нахождение наименьшего периметра треугольника, в зависимости расположения окружностей в данной треугольнике, и соотношение между радиусами меньшей и большей окружности
4. Провести исследование и нахождение площади треугольника, содержащего две равные окружности радиуса R .

При решении задачи №1 рассматривались три варианта расположения окружностей в треугольнике, в зависимости от соотношения между радиусами меньшей и большей окружностей.

В результате получим

1) если $\frac{R}{2} \leq r \leq R$, то наименьший периметр равен $16 \cdot \sqrt{R \cdot r}$.

2) если $\frac{R}{3} \leq r < \frac{R}{2}$, то наименьший периметр равен $\frac{4 \cdot R^2 \cdot \sqrt{R \cdot r}}{(R-r) \cdot r}$.

3) если $r < \frac{R}{3}$, то периметр равен $6 \cdot R \cdot \sqrt{3}$.

В решении задачи №2, анализируя условия, мы выяснили, что искомым минимальным треугольником должен быть выбран из двух:

1) если одна из сторон касается обеих окружностей, а каждая из двух оставшихся касается одной окружности и делится точкой касания пополам.

2) если две стороны треугольника касаются одной окружности и делится точкой касания пополам.

Наименьшее значение площади треугольника оказалось равно $(6+4\sqrt{2}) \cdot R$, в первом случае. Во втором случае площадь получившегося экстремального треугольника $(S = \frac{R^2 \cdot (3\sqrt{17}-5) \cdot \sqrt{22+6\sqrt{17}}}{4})$, больше чем в первом случае $(S=(6+4\sqrt{2}) \cdot R)$.

Следует отметить, что данная работа будет полезна для учащихся, интересующихся математикой, занимающихся математикой при подготовке к олимпиадам, экзаменам и ЦТ.

Оглавление

Введение	4
1.Задача на построение касательной к окружности, находящейся внутри треугольника, так чтобы периметр треугольника был наименьший.....	5
2.Решение задачи о нахождении наименьшего периметра треугольника, содержащий две окружности, если $R/2 \leq r \leq R$	6
3.Соотношение между радиусами меньшей и большей окружности, находящейся в треугольнике.....	8
4.Решение задачи о нахождении наименьшего периметра треугольника, содержащего две окружности, если $r < R/3$	9
5.Решение задачи о нахождении наименьшего периметра треугольника, содержащего две окружности, если $R/3 \leq r < R/2$	10
6.Задача о нахождении наименьшей площади треугольника, содержащего две равные касающиеся окружности	11
Заключение	14
Список использованных источников	15

ВВЕДЕНИЕ

Окружность и треугольник. Каково многообразие задач, и каждая задача интереснее другой. Меня заинтересовали две задачи И. Ф. Шарыгина:

Задача №1. Найти наименьшее значение периметров всевозможных треугольников, содержащих две касающиеся внешним образом окружности с радиусом R и r .

Задача №2. Найти наименьший по площади треугольника, содержащий две равные касающиеся окружности R .

Чтобы справиться с решением этих задач пришлось предварительно решить опорные задачи, изучить и исследовать литературу по данной теме.

Предметом исследования являются нахождение наименьшего значения периметра и площади треугольника, который содержит две окружности.

Задачи исследования:

1. Исследовать и изучить литературу по теме «Окружность и треугольник»
2. Отбор и классификация исследуемого материала
3. Провести исследование и нахождение наименьшего периметра треугольника, в зависимости расположения окружностей в данной треугольнике, и соотношение между радиусами меньшей и большей окружности
4. Провести исследование и нахождение площади треугольника, содержащего две равные окружности радиуса R .

Следует отметить, что данная работа будет полезна для учащихся, интересующихся математикой, занимающихся математикой при подготовке к олимпиадам, экзаменам и ЦТ.

1. ЗАДАЧА НА ПОСТРОЕНИЕ КАСАТЕЛЬНОЙ К ОКРУЖНОСТИ, НАХОДЯЩЕЙСЯ ВНУТРИ ТРЕУГОЛЬНИКА, ТАК ЧТОБЫ ПЕРИМЕТР ТРЕУГОЛЬНИКА БЫЛ НАИМЕНЬШИЙ

При решении задачи о нахождении наименьшего значения периметров всевозможных треугольников, содержащих две касающиеся внешним образом окружности с радиусами R и r мы будем опираться в качестве леммы на утверждение, которое получим в решении следующей задачи.

Итак, решим следующую задачу: Дан угол и окружность внутри него. Провести касательную к окружности такую, чтоб отсекаемый от угла треугольник содержал окружность и имел наименьший периметр.

Решим данную задачу.

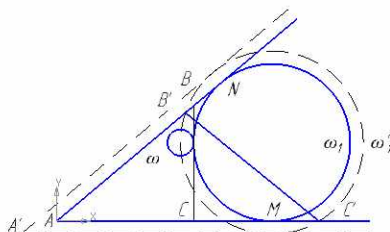


Рис. 1

Пусть ω – данная окружность. Впишем в угол окружности ω_1 , касающуюся окружности ω так, как показано на рисунке 1.

Тогда общая касательная AB к окружностям ω и ω_1 отсекает от угла требуемый треугольник ABC .

Окружность ω_1 является не вписанной для треугольника ABC и отрезки касательные проведенные к этой окружности из вершины A равны полупериметру треугольника ABC . То есть $AM=AN=P_{\Delta ABC}$, где P полупериметр треугольника ABC .

Для любой другой касательной к окружности ω – $B'C'$, невписанная окружность треугольника $AB'C'$ будет располагаться дальше от вершины A , а следовательно треугольник $AB'C'$ будет иметь периметр больше, чем треугольник ABC .

Для построения окружности ω_1 воспользуемся известным приемом «расширения окружности». Рассмотрим угол с вершиной A' , стороны которого параллельны сторонам данного угла и удалены от них на расстояние, равное радиусу данной окружности ω . Окружность ω_1' , концентрическая окружности ω_1 и проходящая через центр окружности ω , будет касаться сторон угла с вершиной A' . Следовательно, окружность ω_1' можно построить, а затем построить и окружность ω_1 .

Таким образом, если внутри угла расположена окружность, к которой проводятся всевозможные касательные, отсекающие треугольники, содержащие эту окружность, то наименьший периметр будет иметь тот треугольник, у которого невписанная окружность касается данной (рис. 2).




Рис. 2

2. РЕШЕНИЕ ЗАДАЧИ О НАХОЖДЕНИИ НАИМЕНЬШЕГО ПЕРИМЕТРА

ТРЕУГОЛЬНИКА, СОДЕРЖАЩЕГО ДВЕ ОКРУЖНОСТИ, ЕСЛИ $\frac{R}{2} \leq r \leq R$

Пусть стороны треугольника ABC касаются окружностей в четырех точках. Внеписанные окружности треугольника ABC, соответствующими сторонам AB и BC, касаются сторон AB и BC.

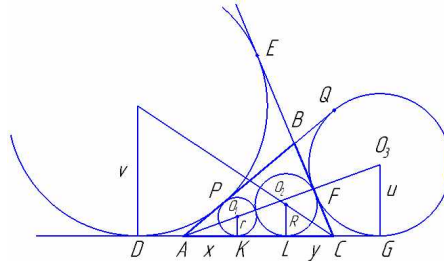


Рис. 3

Пусть $AK=x$, $LC=y$. По свойству отрезков касательных к окружности $AD=AP=x$; $EF=DL=AD+AK+KL=AP+AK+KL=2 \cdot x+KL$.

Аналогично $PQ=KG=KL+LC+CG=KL+LC+CF=KL+2 \cdot y$.

А поскольку $EF=PQ$, то $2 \cdot x+KL=KL+2 \cdot y$, $x=y$.

Если в угол вписаны две касающиеся окружности радиусами r и R , то длина отрезка между точками касания равна $2 \cdot \sqrt{r \cdot R}$. В нашей задаче,

$KL=2 \cdot \sqrt{r \cdot R}$, где r и R радиусы окружностей вписанные в треугольник ABC.

Пусть u и v - радиусы внеписанных окружностей,

$LG=LC+CG=LC+CF$, $LC=FC$, то имеем $LG=2 \cdot y=2 \cdot \sqrt{R \cdot u}$, (1)

$DK=AK+DA=AK+AP$, $AP=AD$, тоимеем $DK=2 \cdot x=2 \cdot \sqrt{r \cdot v}$, (2)

Из равенств (1) и (2) выразим радиусы внеписанных окружностей

$$u = \frac{y^2}{R}, \quad v = \frac{x^2}{r}, \text{ но так как } x=y, \text{ то } u = \frac{x^2}{R}, \quad v = \frac{x^2}{r}.$$

Треугольники AO_1K и AO_3G подобны, так как угол $\angle O_3AG$ общий, $\angle AKO_1 = \angle AGO_3 = 90^\circ$ (по свойству касательной).

Таким образом

$$\frac{AK}{r} = \frac{AG}{u}, \quad AG=AK+KL+LC+CG=x+2 \cdot \sqrt{r \cdot R}+y+y=3 \cdot x+2 \cdot \sqrt{r \cdot R}.$$

$$\frac{x}{r} = \frac{3 \cdot x+2 \cdot \sqrt{r \cdot R}}{u} \text{ из данной пропорции найдем значение } x.$$

$$\frac{x}{r} = \frac{3 \cdot x+2 \cdot \sqrt{r \cdot R}}{\frac{x^2}{R}}$$

$$\frac{x^3}{R} = 3 \cdot x \cdot r + 2 \cdot r \cdot \sqrt{r \cdot R}$$

$$x^3 = 3 \cdot x \cdot r \cdot R + 2 \cdot r \cdot R \cdot \sqrt{r \cdot R}$$

$$x^3 - 3 \cdot R \cdot r \cdot x - 2 \cdot (R \cdot r)^{3/2} = 0$$

$$x^3 - 4 \cdot R \cdot r \cdot x + R \cdot r \cdot x - 2 \cdot (R \cdot r)^{3/2} = 0$$

$$x \cdot (x^2 - 4 \cdot R \cdot r) + R \cdot r \cdot (x - 2 \cdot \sqrt{R \cdot r}) = 0$$

$$x \cdot (x - 2 \cdot \sqrt{R \cdot r}) \cdot (x + 2 \cdot \sqrt{R \cdot r}) + R \cdot r \cdot (x - 2 \cdot \sqrt{R \cdot r}) = 0$$

$$(x - 2 \cdot \sqrt{R \cdot r}) \cdot (x^2 + 2 \cdot \sqrt{R \cdot r} \cdot x + R \cdot r) = 0$$

$$x - 2 \cdot \sqrt{R \cdot r} = 0 \text{ или } x^2 + 2 \cdot \sqrt{R \cdot r} \cdot x + R \cdot r = 0$$

$$x = 2 \cdot \sqrt{R \cdot r} (x + \sqrt{R \cdot r})^2 = 0$$

$$x = -\sqrt{R \cdot r}$$

Не удовлетворяют условию задачи.

Таким образом, $x = 2 \cdot \sqrt{R \cdot r}$.

Периметр треугольника ABC равен $2 \cdot AG$ (как было доказано в п. 1).

$P_{ABC} = 2 \cdot AG$, где P_{ABC} - периметр треугольника ABC.

Но длина отрезка AG равна $3 \cdot x + 2 \cdot \sqrt{R \cdot r}$,

$$AG = 3 \cdot x + 2 \cdot \sqrt{R \cdot r} = 3 \cdot 2 \cdot \sqrt{R \cdot r} + 2 \cdot \sqrt{R \cdot r} = 8 \cdot \sqrt{R \cdot r},$$

Значит, $P_{ABC} = 16 \cdot \sqrt{R \cdot r}$.

Рассматривая этот случай, мы предполагаем, что касательные к окружностям радиусами r и R не пересекают окружность радиуса R (считается, что $r \leq R$).

Это приводит к условию $\frac{r}{x} \geq \frac{R}{AL}$, но так как

$$AL = AK + KL = x + 2 \cdot \sqrt{R \cdot r} = 2 \cdot \sqrt{R \cdot r} + 2 \cdot \sqrt{R \cdot r} = 4 \cdot \sqrt{R \cdot r}$$

$$\frac{r}{x} \geq \frac{R}{4 \cdot \sqrt{R \cdot r}},$$

$$\frac{r}{2 \cdot \sqrt{R \cdot r}} \geq \frac{R}{4 \cdot \sqrt{R \cdot r}},$$

$$r \geq \frac{R}{2}.$$

Итак, если $\frac{R}{2} \leq r < R$, то наименьший периметр равен $16 \cdot \sqrt{R \cdot r}$.

3. СООТНОШЕНИЕ МЕЖДУ РАДИУСАМИ МЕНЬШЕЙ И БОЛЬШЕЙ ОКРУЖНОСТИ, НАХОДЯЩЕЙСЯ В ТРЕУГОЛЬНИКЕ

Пусть треугольник ABC – правильный и две стороны касаются данных окружностей.

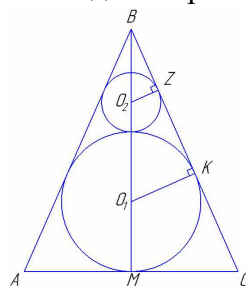


Рис. 4

Найдем соотношение между радиусами R и r , где R – радиус большой окружности, r – радиус малой окружности.

$\triangle BKO_1$ – прямоугольный ($\angle BKO_1 = 90^\circ$ по свойству касательной).

$\angle O_1BK = 30^\circ$, BM – биссектриса, медиана высота равностороннего треугольника.

$BO_1 = 2 \cdot O_1K = 2 \cdot R$ (по свойству катета прямоугольного треугольника, противоположному углу в 30°).

Аналогично, $BO_2 = 2 \cdot r$ (из треугольника $\triangle BZO_2$).

Тогда $BO_1 = BO_2 + O_2O_1$,

$$2 \cdot R = 2 \cdot r + R + r$$

$$R = 3 \cdot r, \quad r = \frac{R}{3}.$$

Это идеальный вариант, когда стороны треугольника касаются обеих окружностей.

В связи с этим возможны следующие варианты:

1. Если $r < \frac{R}{3}$, в этом случае искомым является правильный треугольник, описанный около большой окружности.

2. Если $\frac{R}{3} \leq r < \frac{R}{2}$, то искомым является равнобедренный треугольник, его боковые стороны касаются данных окружностей.

4. РЕШЕНИЕ ЗАДАЧИ О НАХОЖДЕНИИ НАИМЕНЬШЕГО ПЕРИМЕТРА ТРЕУГОЛЬНИКА, СОДЕРЖАЩЕГО ДВЕ ОКРУЖНОСТИ, ЕСЛИ $r < \frac{R}{3}$

Пусть $r < \frac{R}{3}$. В этом случае искомым треугольником будет правильный, описанный около большой окружности.

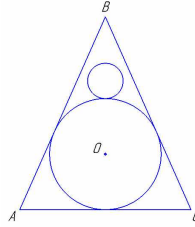


Рис. 5

Найдем в этом случае наименьшее значение периметра данного треугольника. Так как большая окружность радиуса R является вписанной в правильный треугольник, то $R = \frac{a}{2\sqrt{3}}$, где a сторона данного правильного треугольника.

$$\text{Тогда } a = 2\sqrt{3} \cdot R.$$

Периметр треугольника ABC равен

$$P_{ABC} = 3 \cdot a = 3 \cdot 2\sqrt{3} \cdot R = 6\sqrt{3} \cdot R.$$

Таким образом, если $r < \frac{R}{3}$, то искомым является правильный треугольник, описанный около большой окружности, и наименьшее значение периметра треугольника равно $P = 6\sqrt{3} \cdot R$.

5. РЕШЕНИЕ ЗАДАЧИ О НАХОЖДЕНИИ НАИМЕНЬШЕГО ПЕРИМЕТРА ТРЕУГОЛЬНИКА, СОДЕРЖАЩЕГО ДВЕ ОКРУЖНОСТИ, ЕСЛИ $\frac{R}{3} \leq r < \frac{R}{2}$

Пусть $\frac{R}{3} \leq r < \frac{R}{2}$. В этом случае искомый треугольник является равнобедренным, его боковые стороны касаются данных окружностей.

Найдем наименьшее значение периметра $\triangle ABC$.

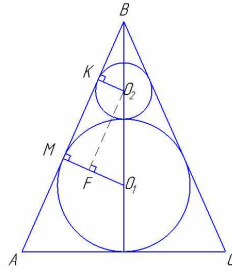


Рис. 6

r и R – радиусы малой и большой окружностей, с центрами O_2 и O_1 .

Точки K и M – точки касания данных окружностей с боковой стороной AB .

$$KM = 2 \cdot \sqrt{R \cdot r}; \quad O_1O_2 = R + r;$$

$$FO_1 = MO_1 - MF = MO_1 - KO_2 = R - r, \quad O_2F \parallel KM, \quad O_2F = KM = 2 \cdot \sqrt{R \cdot r}, \quad O_1O_2 = R + r$$

где $\angle FO_2O_1 = \angle MBO_1$ – как соответствующие при параллельных прямых MB , FO_2 и секущей BO_1 .

$\triangle O_2FO_1$ – прямоугольный ($\angle O_2FO_1 = 90^\circ$).

$$\operatorname{tg} \angle FO_2O_1 = \frac{FO_1}{FO_2} = \frac{R-r}{2 \cdot \sqrt{R \cdot r}};$$

$$\sin \angle FO_2O_1 = \frac{FO_1}{O_1O_2} = \frac{R-r}{R+r}.$$

$$\operatorname{tg} \angle MBO_1 = \operatorname{tg} \angle FO_2O_1 = \frac{R-r}{2 \cdot \sqrt{R \cdot r}};$$

$$\sin \angle MBO_1 = \sin \angle FO_2O_1 = \frac{FO_1}{O_1O_2} = \frac{R-r}{R+r}.$$

$\triangle MBO_1$ – прямоугольный.

$$\sin \angle MBO_1 = \frac{MO_1}{BO_1}, \quad BO_1 = \frac{MO_1}{\sin \angle MBO_1} = \frac{R}{\frac{R-r}{R+r}} = \frac{R \cdot (R+r)}{R-r},$$

BK – высота равнобедренного треугольника $\triangle ABC$.

$$BK = BO_1 + O_1K = \frac{R \cdot (R+r)}{R-r} + R = \frac{R^2 + R \cdot r + R^2 - R \cdot r}{R-r} = \frac{2 \cdot R^2}{R-r}$$

Найдем AK из прямоугольного треугольника AKB .

$$AK = BK \cdot \operatorname{tg} \angle ABK = \frac{2 \cdot R^2}{R-r} \cdot \frac{R-r}{2 \cdot \sqrt{R \cdot r}} = \frac{R^2}{\sqrt{R \cdot r}}$$

Площадь треугольника ABC равна

$$\begin{aligned} S_{\triangle ABC} &= \frac{1}{2} \cdot 2 \cdot AK \cdot BK = \frac{R^2}{\sqrt{R \cdot r}} \cdot \frac{2 \cdot R^2}{R-r} = \frac{2 \cdot R^4}{\sqrt{R \cdot r} \cdot (R-r)} = \\ &= \frac{2 \cdot R^4 \cdot \sqrt{R \cdot r}}{R \cdot r \cdot (R-r)} = \frac{2 \cdot R^3 \cdot \sqrt{R \cdot r}}{r \cdot (R-r)} \end{aligned}$$

Если в треугольнике вписана окружность радиуса R , то периметр данного треугольника найдем по формуле

$$P = \frac{2 \cdot S}{R} = \frac{2 \cdot 2 \cdot R^3 \cdot \sqrt{R \cdot r}}{R \cdot r \cdot (R-r)} = \frac{4 \cdot R^2 \cdot \sqrt{R \cdot r}}{r \cdot (R-r)}$$

Таким образом, если радиус окружностей R и r находятся в отношении $\frac{R}{3} \leq r < \frac{R}{2}$, то наименьшее значение периметра данного треугольника равно $\frac{4 \cdot R^2 \cdot \sqrt{R \cdot r}}{(R-r) \cdot r}$.

6. ЗАДАЧА О НАХОЖДЕНИИ НАИМЕНЬШЕЙ ПЛОЩАДИ ТРЕУГОЛЬНИКА, СОДЕРЖАЩЕГО ДВЕ РАВНЫЕ КАСАЮЩИЕСЯ ОКРУЖНОСТИ

Пусть даны две равные касающиеся окружности радиусом R . Найти наименьшей по площади треугольника, содержащий данные окружности.

Докажем сначала вспомогательные утверждения.

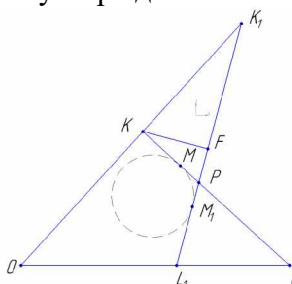


Рис. 7

Рассмотрим угол с вершиной O , внутри которого расположена окружность. Проведем к ней касательную пересекающую сторону угла в точках K и L , такую что треугольник OKL содержит данную окружность. Точка M – точка касания. Тогда треугольник OKL имеет наименьшую площадь, если M – середина KL .

Для доказательства проведем касательную K_1L_1 . $KL \perp OM$, $K_1L_1 \perp OP$. Возьмем на K_1L_1 точку F такую что, $KF \parallel OL$.

Имеет $S_{PKK_1} > S_{PKF} > S_{PLL_1}$.

Значит, площадь $\triangle OK_1L_1$ больше $\triangle OKL$.

Утверждение доказано.

На основании доказанного утверждения сделаем вывод, что искомым минимальный треугольник должен быть выбран среди следующих двух:

1. Одна из его сторон касается обеих окружностей, а каждая из двух оставшихся касается одной окружности и делится точкой касания пополам.

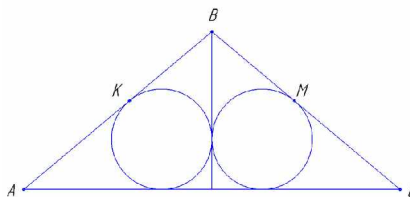


Рис. 8

Из этого следует, что искомым треугольник равнобедренный, $AB=BC$. Если точки K и M – точки касания на AB и BC , то высота BD , проведенная к AC , в 2 раза больше как расстояние от K до AC , так и расстояния от M до AC , то есть эти расстояния равны.

В прямоугольном треугольнике ABD вписанная окружность касается гипотенузы в ее середине. Значит, этот треугольник равнобедренный $AD=BD$, $AB=AD \cdot \sqrt{2}$. Найдем катеты этого треугольника

$$R = \frac{AD+BD-AB}{2}, \quad 2 \cdot R = 2 \cdot AD - \sqrt{2} \cdot AD, \quad AD = \frac{2 \cdot R}{2 - \sqrt{2}}, \quad \text{или } AD = R \cdot (2 + \sqrt{2}).$$

Площадь треугольника ABC равна

$$S_{ABC} = 2 \cdot S_{ADB} = 2 \cdot \frac{1}{2} \cdot AD^2 = \left(R \cdot (2 + \sqrt{2}) \right)^2 = (6 + 4\sqrt{2}) \cdot R^2.$$

Таким образом, в этом случае площадь минимального треугольника равна $(6 + 4\sqrt{2}) \cdot R^2$.

2. Рассмотрим второй случай, когда две стороны касаются одной окружности и точкой касания делятся пополам.

В этом случае $\triangle ABC$ – равнобедренный, BD – высота $\triangle ABC$; $BA=2 \cdot BM$. Пусть $BO=x$, тогда из прямоугольного треугольника BMO_1 ($\angle BMO_1=90^\circ$).

$$BM = \sqrt{BO^2 - MO^2},$$

$$BM = \sqrt{x^2 - R^2},$$

$BD = BO + OD$, $BD = x + 3 \cdot R$, R - радиус данных окружностей.

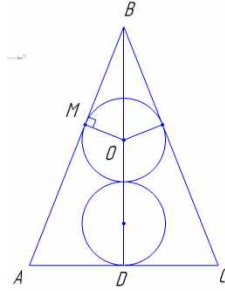


Рис. 9

Из подобия треугольников BOM и BAD имеем

$$\frac{BO}{BA} = \frac{OM}{AD} = \frac{BM}{BD},$$

$$\frac{x}{2 \cdot \sqrt{x^2 - R^2}} = \frac{R}{AD} = \frac{\sqrt{x^2 - R^2}}{x + 3 \cdot R}, \quad (1)$$

$$\frac{x}{2 \cdot \sqrt{x^2 - R^2}} = \frac{\sqrt{x^2 - R^2}}{x + 3 \cdot R},$$

$$x \cdot (x + 3 \cdot R) = 2 \cdot (\sqrt{x^2 - R^2})^2,$$

$$x^2 + 3 \cdot R \cdot x = 2 \cdot x^2 - 2 \cdot R^2,$$

$$x^2 - 3 \cdot R \cdot x - 2 \cdot R^2 = 0,$$

$$D = 9 \cdot R^2 + 8 \cdot R^2 = 17 \cdot R^2,$$

$$x_1 = \frac{3 + \sqrt{17}}{2} \cdot R, \text{ или } x_2 = \frac{3 - \sqrt{17}}{2} \cdot R \text{ (не удовлетворяет условию задачи).}$$

$$\text{Значит, } BO = \frac{3 + \sqrt{17}}{2} \cdot R. \text{ Тогда } BD = x + 3 \cdot R = \frac{3 + \sqrt{17}}{2} \cdot R + 3 \cdot R = R \cdot \left(\frac{9 + \sqrt{17}}{2}\right).$$

Далее из пропорции (1) найдем AD

$$\begin{aligned} AD &= \frac{2 \cdot R \cdot \sqrt{x^2 - R^2}}{x} \\ AD &= \frac{2 \cdot R \cdot \sqrt{\left(\frac{3 + \sqrt{17}}{2} \cdot R\right)^2 - R^2}}{\frac{3 + \sqrt{17}}{2} \cdot R} = \frac{2 \cdot R \cdot \sqrt{\left(\frac{3 + \sqrt{17}}{2}\right)^2 - 1}}{\frac{3 + \sqrt{17}}{2}} = \\ &= \frac{2 \cdot R \cdot \sqrt{(3 + \sqrt{17})^2 - 4}}{3 + \sqrt{17}} = \frac{2 \cdot R \cdot \sqrt{22 + 6\sqrt{17}}}{3 + \sqrt{17}} \end{aligned}$$

Следовательно, площадь треугольника ABC будет равна

$$\begin{aligned} S_{ABC} &= \frac{1}{2} \cdot 2 \cdot AD \cdot BD. \\ S_{ABC} &= \frac{2 \cdot R \cdot \sqrt{22 + 6\sqrt{17}}}{3 + \sqrt{17}} \cdot R \cdot \frac{9 + \sqrt{17}}{2} = \frac{R^2 \cdot (9 + \sqrt{17}) \cdot \sqrt{22 + 6\sqrt{17}}}{3 + \sqrt{17}} = \\ &= \frac{R^2 \cdot (9 + \sqrt{17}) \cdot (\sqrt{17} - 3) \cdot \sqrt{22 + 6\sqrt{17}}}{(3 + \sqrt{17}) \cdot (\sqrt{17} - 3)} = \frac{R^2 \cdot (6\sqrt{17} - 10) \cdot \sqrt{22 + 6\sqrt{17}}}{8} \\ S &= \frac{R^2 \cdot (3\sqrt{17} - 5) \cdot \sqrt{22 + 6\sqrt{17}}}{4} \end{aligned}$$

Сравним значения площадей треугольников полученных в первом и втором случае $S_1 = (6 + 4 \cdot \sqrt{2}) \cdot R^2$ и

$$S_2 = \frac{R^2 \cdot (3\sqrt{17}-5) \cdot \sqrt{22+6\sqrt{17}}}{4}. \text{ При возведении в квадрат значений } (6+4\cdot\sqrt{2}) \text{ и } \frac{(3\sqrt{17}-5) \cdot \sqrt{22+6\sqrt{17}}}{4}, \text{ получим } (68+48\cdot\sqrt{2}) \text{ и } \frac{107+51\cdot\sqrt{17}}{4}.$$

$$(68+48\cdot\sqrt{2}) < \frac{107+51\cdot\sqrt{17}}{4}.$$

Таким образом, получим, что если в треугольнике содержатся две равные окружности радиуса R , то наименьшее значение площади данного треугольника будет равно: $(6+4\cdot\sqrt{2})\cdot R$.

ЗАКЛЮЧЕНИЕ

Данная работа содержала две задачи:

1. Найти наименьшее значение периметров всевозможных треугольников, содержащих две касающихся внешним образом окружности с радиусами R и r .

2. Найти наименьшее значение площади треугольника, содержащих две равные касающихся окружности с радиусами R .

При решении задачи №1 рассматривались три варианта расположения окружностей в треугольнике, в зависимости от соотношения между радиусами меньшей и большей окружностей.

В результате получим

1) если $\frac{R}{2} \leq r \leq R$, то наименьший периметр равен $16 \cdot \sqrt{R \cdot r}$.

2) если $\frac{R}{3} \leq r < \frac{R}{2}$, то наименьший периметр равен $\frac{4 \cdot R^2 \cdot \sqrt{R \cdot r}}{(R-r) \cdot r}$.

3) если $r < \frac{R}{3}$, то периметр равен $6 \cdot R \cdot \sqrt{3}$.

В решении задачи №2, анализируя условия мы выяснили, что искомый минимальный треугольник должен быть выбран из двух:

1) если одна из сторон касается обеих окружностей, а каждая из двух оставшихся касается одной окружности и делится точкой касания пополам.

2) если две стороны треугольника касаются одной окружности и делится точкой касания пополам.

Наименьшее значение площади треугольника оказалось равно $(6+4\sqrt{2}) \cdot R$, в первом случае. Во втором случае площадь получившегося экстремального треугольника $(S = \frac{R^2 \cdot (3\sqrt{17}-5) \cdot \sqrt{22+6\sqrt{17}}}{4})$, больше чем в первом случае $(S=(6+4\sqrt{2}) \cdot R)$.

СПИСОК ИСПОЛЬЗОВАННЫХ ИСТОЧНИКОВ

1. Шарыгин, И. Ф. Задачи по геометрии: планиметрия.-М.: Наука 1986.
2. Кушнир, И.А. Альтернативные способы решения задач (Геометрия).-Киев: Факт, 2006.
3. Просолов, В. В. Задачи по планиметрии. В 2-х ч.-М.: Наука 1991.
4. Дорофеев, Г. В., Шарыгин И. Ф. Олимпиадные задачи и математика в школе.-М.: 1990 №1, №2, №3, №4.
5. Кушнир, И. А. Геометрия. Поиск и вдохновение. Москва: МЦНМО, 2013.